

**Задания второго тура регионального этапа  
Всероссийской олимпиады школьников по обществознанию 2024 г.  
9 класс  
Время выполнения заданий второго тура — 150 минут**

**1. «Да» или «нет»? Если вы согласны с утверждением, напишите «да», если не согласны — «нет». Внесите свои ответы в таблицу.**

**1.1.** Политическая власть осуществляется только государственными институтами.

**1.2.** Олигополия относится к рынкам с ослабленной конкуренцией.

**1.3.** Вторичная группа — это группа, в которой связь поддерживается личными контактами.

**1.4.** Онтология — это философское учение о познаваемости мира рациональными средствами.

**1.5.** Несоблюдение простой письменной формы сделки всегда влечет ее недействительность.

**2.** Ниже приведен ряд понятий, одно из которых лишнее. **Выпишите его. Объясните, почему оно является исключением, и укажите основание, которое позволит объединить остальные понятия.**

Голосование, иммиграция, массовая манифестация, обращение с инициативой к главе местных органов власти.

**3. «Фамилия ребенка».**

У Виктории Квакиной и Сергея Лягушкина родился сын. На семейном совете было принято решение, что мальчика назовут Иван, а фамилия будет записана как у матери — Квакин. При регистрации рождения ребенка должностным лицом органа ЗАГС было отказано в присвоении ребенку фамилии матери, по причине того, что детям присваивается только фамилия отца.

**3.1.** Правомерен ли отказ должностного лица органа ЗАГС?

**3.2.** Какие фамилии могли быть присвоены ребенку? Назовите все возможные варианты.

**4. «Книги XIX века».**

Николай шел по улице и увидел сверток, внутри свертка оказались книги, датированные XIX веком. «Клад» подумал Николай и взял сверток.

**4.1.** Объясните Николаю, почему данный сверток не является кладом. Приведите развернутое объяснение.

**4.2.** Как называется действие Николая, если его охарактеризовать как юридический факт?

**Второй тур регионального этапа  
Всероссийской олимпиады школьников по обществознанию 2024 г.  
9 КЛАСС**

**5. «Год к году».**

Информация о результатах финансово-хозяйственной деятельности предприятия представлена в таблице:

<b>А Показатель</b>	<b>В 2022 год</b>	<b>С 2023 год</b>
Выручка от продаж, тыс. руб.	60 000	84 000
Себестоимость проданной продукции, тыс. руб.	30 000	40 000
Коммерческие и управленческие расходы	15 000	20 000

**5.1. Заполните последнюю строку таблицы. Для этого:**

- 1) **Определите результативный показатель и впишите его в таблицу.**
  - 2) **Рассчитайте значение указанного показателя для 2022 и 2023 года.**
- Обязательно приведите решение.**

**5.2. Насколько (в %) изменилось значение указанного Вами показателя в 2023 году по сравнению с 2022 годом. Приведите решение.**

**6. «Цена и спрос».**

Равновесная цена продукции (P) равна 40, а равновесный объём (Q) равен 50. Известно, что на данном рынке выполняется закон спроса — иначе говоря, с ростом цены продукции величина спроса на нее убывает.

**Какая из нижеперечисленных функций может описывать спрос на данном рынке? Свой ответ обоснуйте. Обоснование должно быть развернутым и математически обоснованным.**

- 1)  $Q = 10 + P$
- 2)  $Q = -10 + P$
- 3)  $Q = 140 - 2P$
- 4)  $Q = 130 - 2P$

**7. Прочтите текст и выполните задание к нему.**

В политическом процессе две составляющие: с одной стороны, приверженность традиции, с другой — неустанная изобретательность и приспособление к изменениям. В политике, как и в жизни, непривычные нововведения сначала оспариваются, затем постепенно осваиваются, доводятся до авто-

**Второй тур регионального этапа  
Всероссийской олимпиады школьников по обществознанию 2024 г.  
9 КЛАСС**

матизма; затем то же самое происходит и с другими новшествами. Новое правило дорожного движения сначала с трудом осваивается, отторгается, однако рано или поздно становится автоматически исполняемым и, в свою очередь, служит основой противостояния какому-либо новому правилу, вводимому в силу новых обстоятельств.

Это предполагает процесс приспособления, постепенной реадaptации к изменяющимся условиям. В одних странах он протекает в муках революции, в других осуществляется более спокойными, но и не столь быстрыми способами. Одна из основных задач политики всегда, видимо, состоит в том, чтобы сделать последствия изменений как можно менее разорительными. Закон, суд, полиция, бюрократия, парламентарии, соглашения, союзы и т. д. играют важную роль в высвобождении социальной энергии, которая в противном случае привела бы к жестоким схваткам между людьми и целыми народами.

**Какие из приведенных ниже утверждений нельзя считать верными?**

1. Политический процесс подразумевает только кардинальные социальные изменения.
2. Автор уподобляет процесс адаптации к политическим нововведениям реакции людей на новшества в обыденной жизни.
3. Политика нужна для того, чтобы потенциальные социально-политические изменения проходили максимально безболезненно для общества.
4. Политические изменения всегда сопряжены с революцией.

## **8. «Учителя».**

**Прочитайте условие и ответьте на вопросы. Каждый ответ должен быть корректно обоснован.**

Уроки проходят с понедельника по воскресенье. Каждый день проходит только одно занятие, которое ведет один из следующих учителей: Арбузов, Баклажанов, Вишнева, Лимонова, Огурцов, Персикова и Яблокова. Известно, что должны соблюдаться следующие условия:

- Вишнева не преподает в дни, смежные с днем, когда преподает Огурцов или Арбузов
- Арбузов и Огурцов преподают во вторник или субботу
- Персикова преподает на следующий день после Арбузова
- Яблокова не преподает на следующий день после Огурцова

**8.1. Если Огурцов преподает в один из дней до занятия Персиковой, то, кто преподает в воскресенье (при соблюдении всех условий)?**

**8.2. Кто преподает в четверг (при соблюдении всех условий)?**

**Второй тур регионального этапа  
Всероссийской олимпиады школьников по обществознанию 2024 г.  
9 КЛАСС**

**8.3. Кто должен преподавать в среду или воскресенье (при соблюдении всех условий)?**

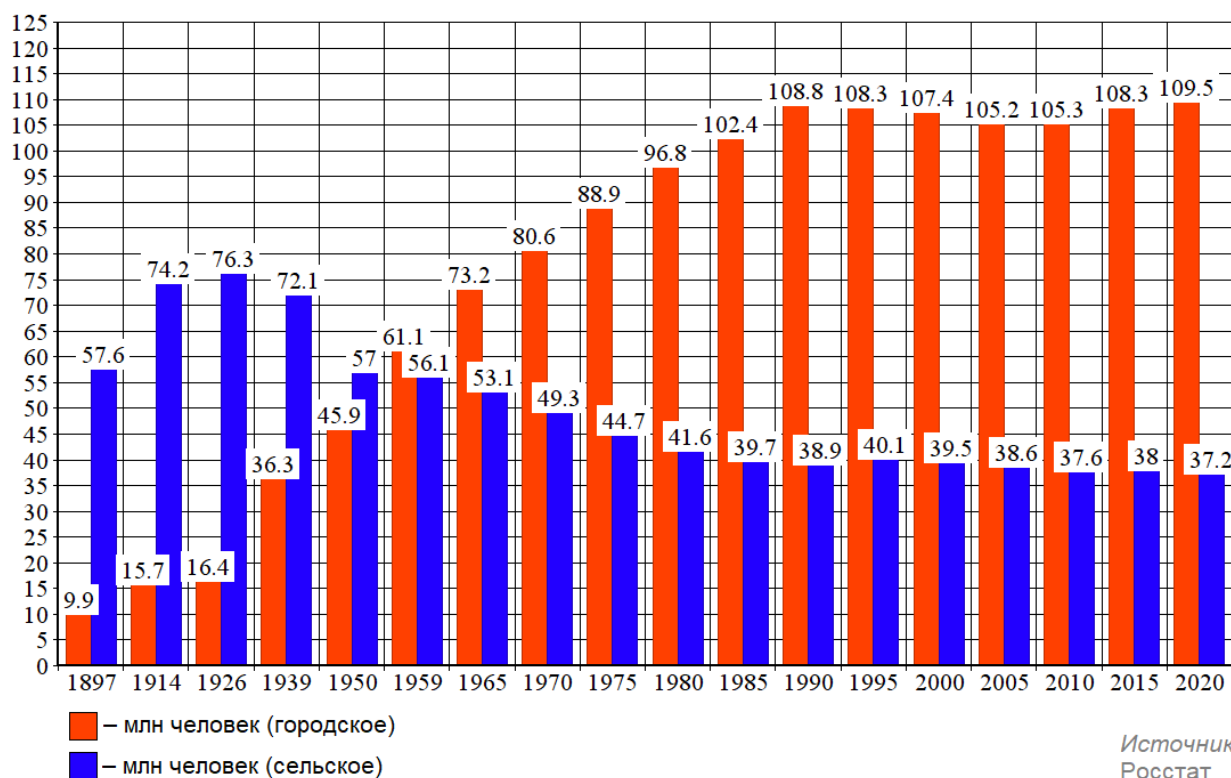
**8.4. Если Баклажанов и Персикова ведут свои занятия до занятий Огурцова, то кто преподает в воскресенье (при соблюдении всех условий)?**

**8.5. Если Баклажанов преподает до занятия Огурцова, а Огурцов до занятия Вишневой, то тогда кто преподает в пятницу (при соблюдении всех условий)?**

**9. «Численность населения»**

**Рассмотрите предложенный график и ответьте на вопросы.**

**Численность городского и сельского населения в России**



**9.1. Как называется социально-демографический процесс, изображенный на графике?**

**9.2. Дайте развернутое определение названного Вами процесса.**

**9.3. Как с этим процессом связан Второй демографический переход? Свой ответ обоснуйте, пояснив, что ученые понимают под Вторым демографическим переходом.**

**Второй тур регионального этапа  
Всероссийской олимпиады школьников по обществознанию 2024 г.  
9 КЛАСС**

**10. «Куда движутся искусства?»**

Перед Вами фрагмент из статьи Эрика Хобсбаума (*Разломанное время. Изд-во: Corpus, 2017 г.*), в котором пропущены понятия, и серия изображений, которые иллюстрируют тезисы автора.

**Заполните пропуски в тексте, опираясь на приведенный перечень понятий и изображения так, чтобы текст фрагмента был восстановлен.**

**Впишите свой ответ в таблицу. Под выбранными и вписанными в таблицу изображениями подпишите, что именно на них изображено.**

*Обратите внимание, изображений и понятий больше, чем пропусков в тексте. Понятия приведены в именительном падеже единственного числа.*


Какого рода здания станут символом XXI века? До наступления \_\_\_\_\_ (1) эпохи такими зданиями были \_\_\_\_\_ (2), по меньшей мере на Западе. В XIX веке их место, по крайней мере в \_\_\_\_\_ (3), заняли здания \_\_\_\_\_ (4) — соборы для буржуазии — и \_\_\_\_\_ (5) — соборы технологического прогресса. В конце тысячелетия можно выделить три типа зданий, которые могут претендовать на роль новых \_\_\_\_\_ (6) публичной сферы: \_\_\_\_\_ (7), \_\_\_\_\_ (8) и , в самое последнее время, \_\_\_\_\_ (9).



А.




Б.



В.

**Второй тур регионального этапа  
Всероссийской олимпиады школьников по обществознанию 2024 г.  
9 КЛАСС**



Г.




Д.




Е.



Ж.



З.



И.

1. Буржуазная	6. Мода
2. Государство	7. Постиндустриальная
3. Символ	8. Город
4. Тренд	9. Материал
5. Столица	10. Богатство

	<b>1</b>	<b>2</b>	<b>3</b>	<b>4</b>	<b>5</b>	<b>6</b>	<b>7</b>	<b>8</b>	<b>9</b>
<b>А.</b> Понятие (цифра)/изображение (буква)									
<b>В.</b> Что именно изображено?									

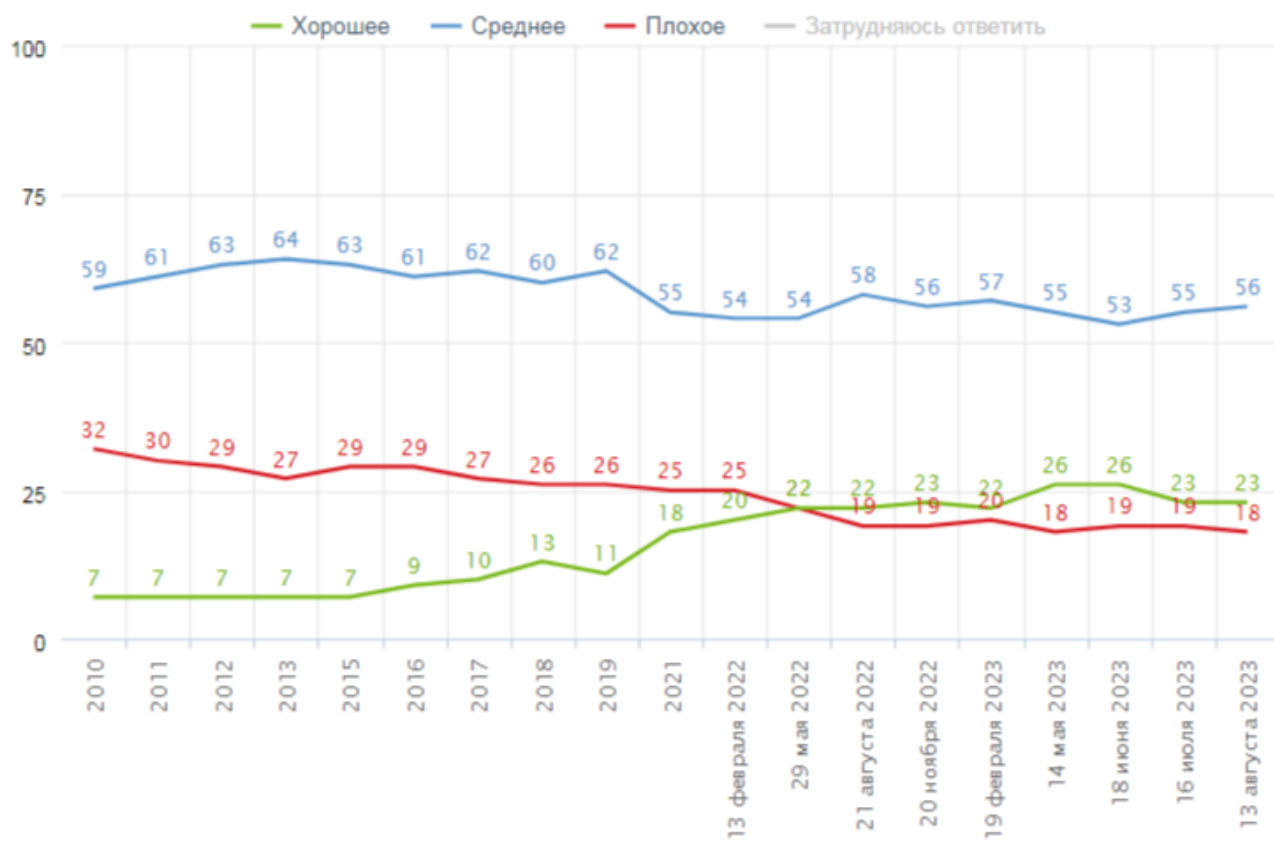
**Второй тур регионального этапа  
Всероссийской олимпиады школьников по обществознанию 2024 г.  
9 КЛАСС**

**11. «Динамика материального положения россиян».**

**Познакомьтесь с кратким описанием результатов исследования и выполните задания.**

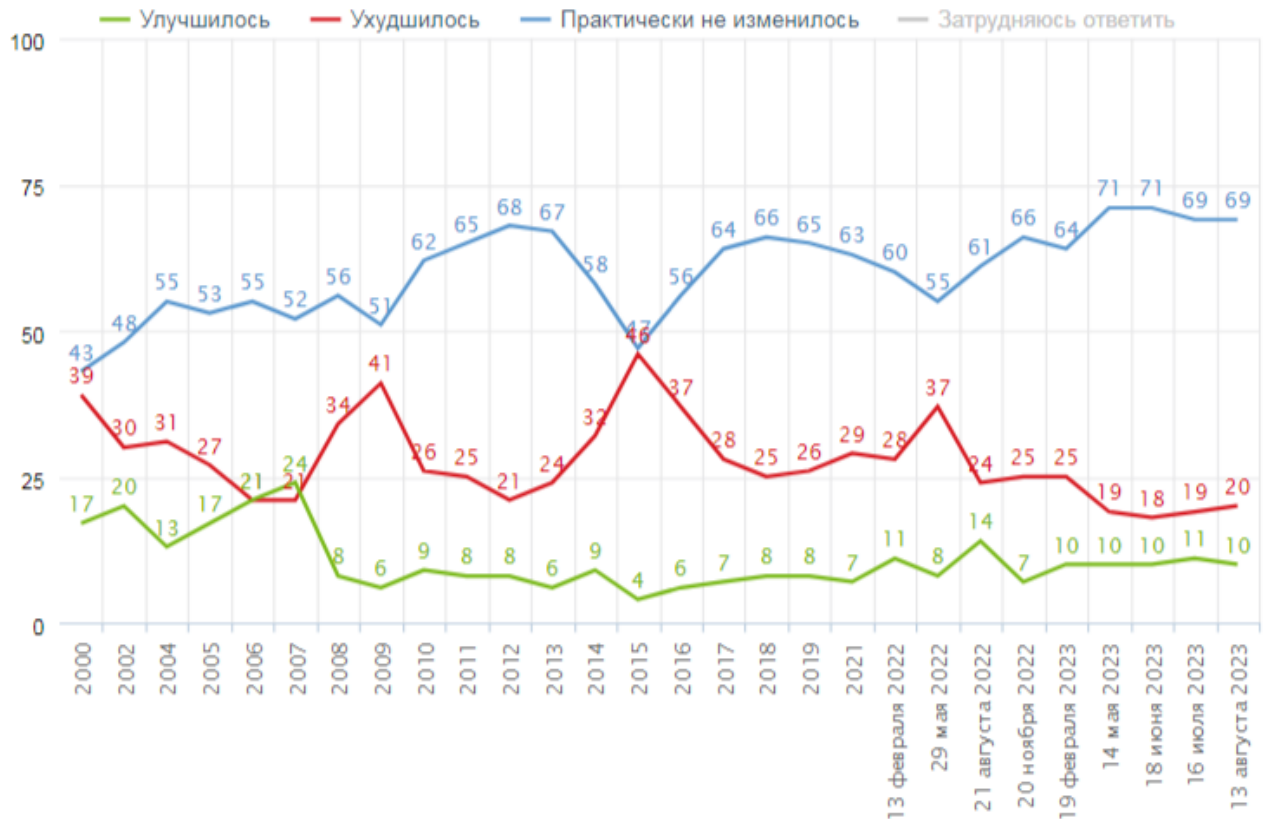
В середине августа 2023 года Фонд «Общественное мнение» (ФОМ) провел исследование, посвященное изучению материального положения россиян, в задачи которого входили: оценка текущего материального положения, динамика за последнее время и прогнозы материального положения на год. Основной метод — еженедельный всероссийский поквартирный опрос в 53 субъектах РФ (104 населенных пункта, 1500 респондентов). Результаты данного исследования представлены на *Рисунках 1, 2, 3*.

*Рисунок 1.  
Распределение ответов на вопрос  
«У вас сейчас хорошее или плохое материальное  
положение?», данные в % от групп*



**Второй тур регионального этапа  
Всероссийской олимпиады школьников по обществознанию 2024 г.  
9 КЛАСС**

*Рисунок 2.  
Распределение ответов на вопрос  
«Как вы считаете, ваше материальное положение за последние  
два-три месяца улучшилось, ухудшилось или практически не изменилось?»,  
данные в % от групп*

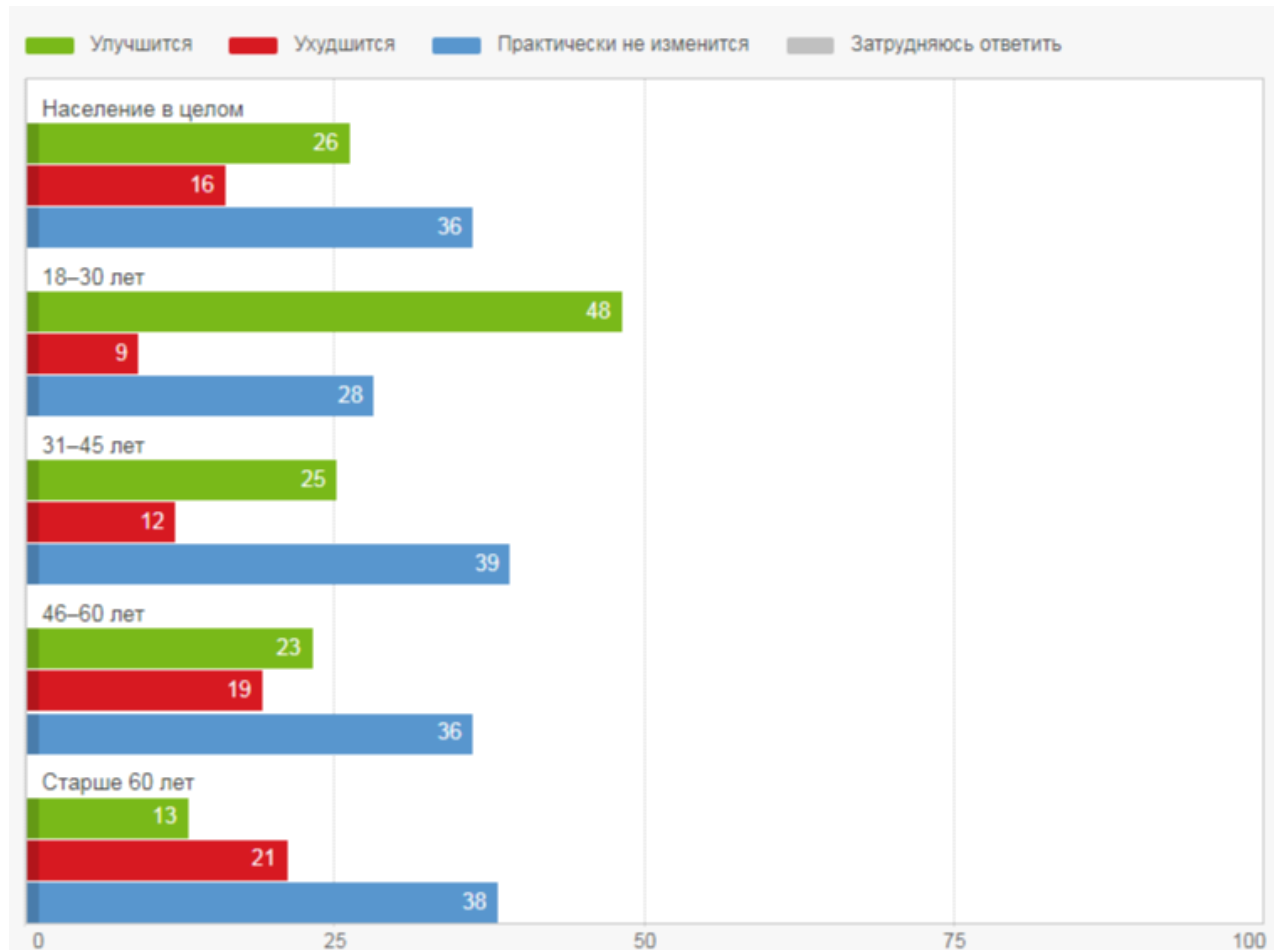




**Второй тур регионального этапа  
Всероссийской олимпиады школьников по обществознанию 2024 г.  
9 КЛАСС**

*Рисунок 3.*

*Распределение ответов на вопрос  
«Как вы думаете, в ближайший год ваше материальное положение  
улучшится, ухудшится или практически не изменится?», данные в % от групп*



**11.1. Какова общая доля россиян, находящихся в трудном материальном положении, на момент последнего замера? Опираясь на результаты исследования, укажите долю в процентах, кратко аргументировав свой ответ.**

*Примечание: ответ должен быть аргументирован, исходя из результатов исследования, представленных на диаграмме с указанием количественных показателей.*

**11.2. Может ли быть сделан следующий вывод по итогам исследования: «Наиболее оптимистичные материальные ожидания наблюдаются у людей старше 35 лет». Дайте ответ, аргументируйте его данными, представленными на соответствующей диаграмме.**

*Примечание: ответ должен быть аргументирован, исходя из результатов исследования, представленных на рисунках с указанием количественных показателей.*

**Второй тур регионального этапа  
Всероссийской олимпиады школьников по обществознанию 2024 г.  
9 КЛАСС**

**11.3. В какой точке замера россияне отметили наибольшее ухудшение своего материального положения? Дайте ответ, аргументируя его результатами, представленными на соответствующей диаграмме.**

*Примечание: ответ должен быть аргументирован, исходя из результатов исследования, представленных на диаграмме с указанием количественных показателей.*

**11.4. Результаты данного социологического исследования собираются на протяжении многих лет. При этом социологи задают людям одни и те же вопросы. Чем это обусловлено? Ответ аргументируйте.**